

Муниципальный этап олимпиады по обществознанию 2023-2024 учебный год
10 класс Код работы: _____

№ задания	ФИО эксперта, подпись		ФИО эксперта, подпись		Итог. балл	Макс. балл
	Выставленные баллы		Выставленные баллы			
1						8
2						10
3						5
4						7
5						10
6						6
7						5
8						4
9	9.1.	Макс 4	9.1.	Макс 4		20
	9.2.	Макс 12	9.2.	Макс 12		
	9.3.	Макс 4	9.3.	Макс 4		
ИТОГО						75

**Муниципальный этап всероссийской олимпиады школьников
по обществознанию
2023-2024 учебный год
10 класс
Максимальный балл – 75 баллов**

Задание 1. Выберите все правильные ответы. Запишите их в таблицу (8 баллов)

1. Выбор одного из нескольких вариантов:

Чертой отличия человека от других живых существ является:

- А) приспособление к природе
- Б) использование предметов, созданных природой
- В) наличие инстинктов
- Г) наличие рефлексов
- Д) способность к творческой деятельности

2. Множественный выбор:

К современным тенденциям развития образования относят:

- А) компьютеризацию
- Б) архаизацию
- В) гуманизацию
- Г) демократизацию
- Д) интернационализацию
- Е) амортизацию

3. Множественный выбор:

К характерным чертам традиционного типа общества относятся:

- А) преобладание устного способа передачи информации над письменным
- Б) проживание большинства населения в городах
- В) господство товарного производства
- Г) повсеместное распространение образовательных организаций
- Д) сословная стратификация общества

4. Найдите понятие, которое является обобщающим для всех остальных понятий:

демографические проблемы, глобальные проблемы, проблемы терроризма, экологические проблемы, проблемы дефицита продовольствия, проблемы биоразнообразия

5. Что является лишним в ряду:

живопись, скульптура, архитектура, фотография, литература

6. Заполните пропуск:

В РФ гарантируется свобода массовой информации. _____ запрещается.

Таблица для ответа:

1	2	3	4	5	6

Задание 2. Определите верность/ошибочность суждений (10 баллов)

		Да/нет
1.	Запрещается проводить испытание при приёме на работу лиц, не достигших совершеннолетия.	

2.	Практика является критерием истины.	
3.	В РФ обучающийся обязан уважать честь и достоинство работников образовательной организации.	
4.	Автором трактата «Капитал. Критика политической экономии» является Ф. Энгельс.	
5.	Союз государств, возглавляемых одним монархом, называется унией.	
6.	Политическая партия является субъектом политической жизни.	
7.	Народная культура в большинстве своём анонимна.	
8.	Социальный контроль включает в себя социальные нормы и социальные санкции.	
9.	Челябинская область состоит из 12 муниципальных районов и 6 городских округов.	
10.	В РФ акцизы относятся к местным налогам.	

Задание 3. Решите логическую задачу (5 баллов)

В одной из школ Челябинской области часть учеников учит только английский язык, часть – только французский. Английский учат 90% учеников, французский – 70%.

Сколько процентов учеников учат оба языка? Приведите обоснование ответа.

Место для ответа:

Задание 4. Решите задачу по праву (7 баллов)

Макаров, обвинялся в причинении тяжкого вреда здоровью Захарова (ч. 1 ст. 111 УК РФ). За оказанием юридической помощи он обратился к Альбекову, который рекламировал себя как адвокат государственного адвокатского бюро "Рука помощи".

По окончании расследования Макаров заявил ходатайство о рассмотрении его дела с участием присяжных или арбитражных заседателей.

Следователь Сычев указал, что в протоколе ознакомления с материалами дела о ходатайстве указывать не будет, т.к. «присяжные и арбитражные заседатели, в отличие от профессионального судьи, не принимают присягу, в связи с чем на них не распространяется принцип независимости судей, а это не позволит им объективно соотнести доказательства по делу с нормами права».

В итоге уголовное дело было рассмотрено профессиональным судьей, который осудил Макарова к лишению свободы сроком на 6 лет с отбыванием наказания в колонии строгого режима. **Дайте правовую оценку ситуации.**

Место для ответа:

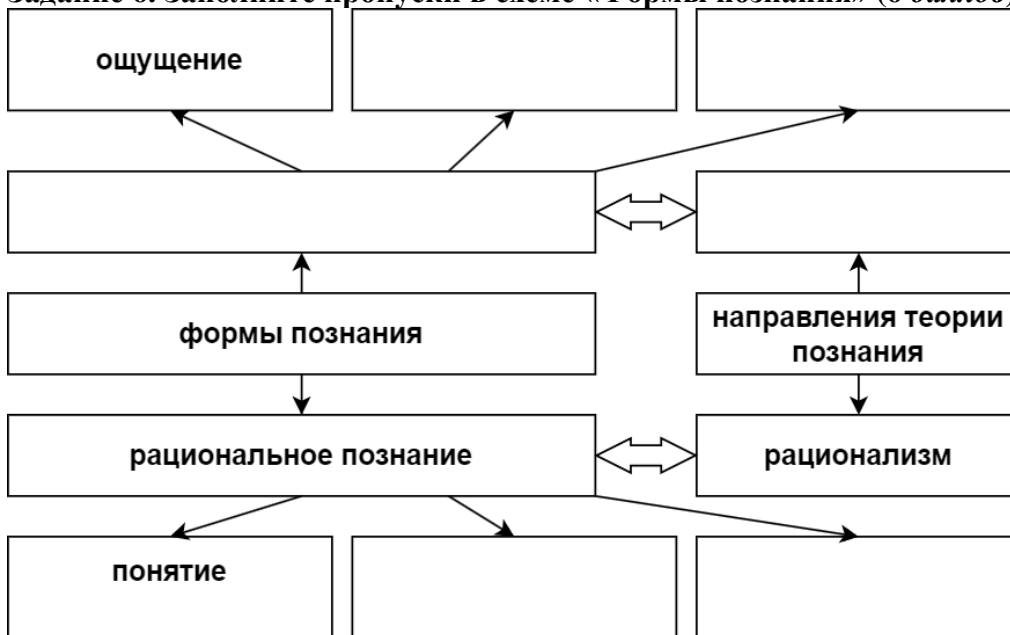
Задание 5. Решите задачу по экономике (10 баллов)

Спрос на шоколад задан уравнением: $Q_d = 250 - 10P$, а предложение шоколада $Q_s = 10 + 2P$, где Q — количество плиток шоколада, P — цена за 1 плитку (руб.). Правительство решило ввести потоварный налог на производителей шоколада в размере 6 рублей за плитку шоколада. Как известно, изменение цены, происходящее в результате введения налога (налоговое бремя), распределяется между продавцом и покупателем.

Определите, какая часть налога (в рублях) будет переложена продавцом на покупателя?

Место для ответа:

Задание 6. Заполните пропуски в схеме «Формы познания» (6 баллов)



Задание 7. О каком обществоведческом понятии идет речь в высказываниях мыслителей? (5 баллов)

«Закон, живущий в нас, называется _____. _____ есть, собственно, применение наших поступков к этому закону». И. Кант

«О своей репутации заботятся многие, о _____ же – лишь некоторые». Публилий Сир


«_____ есть память общества, усвояемая отдельным лицом». Л.Н. Толстой

«Честь – это внешняя _____, а _____ - это внутренняя честь». А. Шопенгауэр


«_____ - это социальный стыд, а стыд – это природная _____». В.С. Соловьев

Какое из высказываний наиболее полно раскрывает сущность данного понятия?

Место для ответа:



Здание 8. Рассмотрите представленную репродукцию картины. Какие утверждения следуют из информации, содержащейся в изображении? (4 балла)



Выберите одно или несколько верных утверждений.

- 1) Изображение иллюстрирует один из видов деятельности человека.
- 2) Изображение иллюстрирует социальный институт, являющийся одним из каналов социальной мобильности.
- 3) На изображении присутствует государственная символика.
- 4) На изображении присутствуют знаки социального отличия.
- 5) Художник критикует патриархальные порядки, царящие в обществе.
- 6) Люди, изображённые на картине, одеваются в строгом соответствии с гендерными различиями.
- 7) Художником подчеркивается единство представленного общества.
- 8) Изображение иллюстрирует народную культуру.
- 9) Изображение иллюстрирует светскую церемонию.
- 10) На иллюстрации изображены бытовые реалии русского традиционного общества.

Запишите цифры верных утверждений: _____


Задание 9. Вам предложена проблемная ситуация. Проанализируйте ситуацию и ответьте на вопросы, представленные ниже. (20 баллов)

Согласно данным Российской газеты, управление киберпространства Китая решило радикально бороться с детской гаджетозависимостью и предложило ограничить для детей младше 8 лет время использования смартфона 40 минутами в день. Дети от 8 до 16 лет смогут пользоваться телефоном не более одного часа в день. Подросткам в возрасте от 16 до 18 лет дадут возможность использования смартфона до 2 часов в день. Также предлагается запретить доступ лицам младше 18 лет в интернет с мобильных устройств с 22.00 до 6.00. Ограничения не распространяются на образовательные приложения, полезные для детского развития ресурсы и на вызов экстренных служб.

9.1. Актуальна ли на ваш взгляд проблема гаджетозависимости детей и подростков в Российской Федерации? В подтверждение своей позиции приведите один аргумент. (4 балла)

Место для ответа:

9.2. Проанализируйте ситуацию и спрогнозируйте возможные последствия в экономической, социальной и духовной сферах общественной жизни, если данные ограничения будут введены в Российской Федерации. Для каждой сферы общественной жизни приведите по два последствия ограничений: одно позитивное и одно негативное. Всего шесть последствий, три позитивных и три негативных. (12 баллов)



9.3. Сформулируйте 4 совета, с помощью которых люди всех возрастов могут избавиться от гаджетозависимости. (4 балла)